

ตารางวิเคราะห์ข้อสอบมาตรฐานชั้นปี วิชา ทศนศิลป์
ชั้นประถมศึกษาปีที่ 4

ข้อ	มาตรฐาน / ตัวชี้วัด											
	มฐ. ศ 1.1									มฐ. ศ 1.2		
	1	2	3	4	5	6	7	8	9	1	2	
1	✓											
2	✓											
3	✓											
4	✓											
5			✓									
6			✓									
7			✓									
8			✓									
9		✓										
10		✓										
11		✓										
12		✓										
13							✓					
14							✓					
15							✓					
16							✓					
17									✓			
18									✓			
19									✓			
20									✓			
21				✓								
22				✓								
23				✓								
24				✓								
25					✓							
26					✓							
27					✓							
28					✓							
29						✓						
30						✓						

ข้อ	มาตรฐาน / ตัวชี้วัด										
	มฐ. ศ 1.1									มฐ. ศ 1.2	
	1	2	3	4	5	6	7	8	9	1	2
31						✓					
32								✓			
33								✓			
34								✓			
35										✓	
36										✓	
37										✓	
38											✓
39						✓					
40								✓			

ให้กาเครื่องหมาย X ทับตัวอักษรหน้าคำตอบที่ถูกต้อง

1. ข้อใดไม่เกี่ยวข้องกับรูปร่างเรขาคณิต

ก. มีรูปแบบแน่นอน

ข. รูปแบบไม่เฉพาะเจาะจง

ค. ระบุชื่อเรียกได้

ง. มนุษย์สร้างขึ้นเป็นส่วนใหญ่

2. สิ่งของในข้อใดมีรูปร่างเรขาคณิต

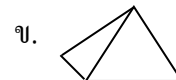
ก. ลูกบอล

ข. ผีเสื้อ

ค. สตรอว์เบอร์รี่

ง. เต้า

3. ภาพใดไม่ใช่รูปทรง



4. ข้อใดไม่เข้าพวก

ก. กรวย

ข. พีระมิด

ค. ปริซึม

ง. ร่องเท้า

5. ข้อใดไม่จัดว่าเป็นทัศนธาตุ

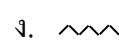

ก. เส้น

ข. พื้นผิว

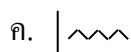
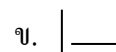
ค. พู่กัน

ง. ที่ว่าง

6. เส้นในภาพใดให้ความรู้สึกเคลื่อนไหว ไม่สงบนิ่ง



7. ถ้าหากต้องการวาดภาพตึกควรนำเส้นใดมาใช้



8. ฟองน้ำ มีพื้นผิวอย่างไร

ก. ผิวอ่อนนุ่ม

ข. ผิวเป็ยกลิ้น

ค. ผิวเรียบ

ง. ผิวขรุขระ

29. ข้อใดไม่ใช่หลักการวาดภาพ

ก. ร่างภาพ


ข. ระบายสี

ค. ตกแต่งภาพ

ง. ตัดกระดาษ

30. เราควรจัดวางภาพแบบข้อใด

ก.




ข.



ค.



ง.



31. ด้านที่ถูกแสงตกกระทบมาก ต้องระบายสีอย่างไร

ก. สีเข้ม

ข. สีดำ

ค. สีสดโต

ง. สีจาง

32. ภาพที่อยู่ในระยะใกล้ ควรระบายสีอย่างไร

ก. ระบายด้วยสีจาง

ข. ระบายด้วยสีเข้ม

ค. ระบายสีสวยๆ

ง. ระบายสีขาวมากๆ

33. นักเรียนควรใช้สีอะไรระบายภาพต้นหญ้า

ก. สีม่วง

ข. สีชมพู

ค. สีน้ำเงิน

ง. สีเขียวอ่อน

34. ภาพยีราฟ ควรวาดในแนวใด

ก. แนวทแยงซ้าย

ข. แนวทแยงขวา

ค. แนวนอน

ง. แนวตั้ง

35. เมื่อก้าวถึงประเพณีบุญหลวงจังหวัดเลย จะคู่กับงานศิลปะในข้อใด

ก. หน้ากากผีตาโขน

ข. ชามตราไก่

ค. รั่มบ่อสร้าง

ง. ตุง

36. กระถางที่นำมาลอยในประเพณีลอยกระทง จะถูกตกแต่งให้สวยงามเพื่ออะไร

ก. ความร่ำรวย

ข. ความสวยงาม

ค. ความภูมิใจ

ง. ความเป็นสิริมงคล

37. หน้ากากผีตาโขนเป็นศิลปะประเภทใด
- | | |
|------------|---------------|
| ก. งานปั้น | ข. งานแกะสลัก |
| ค. ภาพวาด | ง. ภาพพิมพ์ |
38. ศิลปะใดเกิดจากการปั้น
- | | |
|---------------|-------------------|
| ก. โอ่งมังกร | ข. เรือกอและ |
| ค. รมบ่อสร้าง | ง. หน้ากากผีตาโขน |
39. ความแตกต่างของศิลปะ ที่เกิดขึ้นของแต่ละท้องถิ่น มีสาเหตุใดเป็นสำคัญ
- | | |
|--------------------------|------------------------|
| ก. ความเจริญทางเทคโนโลยี | ข. ความรู้ของคนในชุมชน |
| ค. ฐานะของคนในชุมชน | ง. วัฒนธรรมประเพณี |
40. ข้อใดเป็นผลงานที่มีชื่อเสียงของภาคกลาง
- | | |
|----------------------|-----------------|
| ก. หน้ากากผีตาโขน | ข. รมบ่อสร้าง |
| ค. เครื่องปั้นดินเผา | ง. ตุ๊กตาดินเผา |

