

ตารางวิเคราะห์ข้อสอบมาตรฐานชั้นปี วิชา สังคมศึกษา ศาสนาและวัฒนธรรม ชุดที่ 1																														
ชั้นประถมศึกษาปีที่ 6																														
ข้อ	มาตรฐาน / ตัวชี้วัด																													
	มฐ. ส 1.1					มฐ. ส 1.2					มฐ. ส 2.1					มฐ. ส 2.2				มฐ. ส 3.1		มฐ. ส 3.2		มฐ. ส 5.1		มฐ. ส 5.2				
	1	2	3	4	5	6	7	8	9	1	2	3	4	1	2	3	4	5	1	2	3	1	2	1	2	1	2	1	2	3
1	✓																													
2		✓																												
3			✓																											
4				✓																										
5					✓																									
6						✓																								
7							✓																							
8								✓																						
9									✓																					
10										✓																				
11											✓																			
12												✓																		
13													✓																	
14														✓																
15															✓															
16																✓														
17																	✓													
18																		✓												
19																			✓											
20																					✓									

ตารางวิเคราะห์ข้อสอบมาตรฐานชั้นปี วิชา สังคมศึกษา ศาสนาและวัฒนธรรม ชุดที่ 1																													
ชั้นประถมศึกษาปีที่ 6																													
ข้อ	มาตรฐาน / ตัวชี้วัด																												
	มฐ. ส 1.1					มฐ. ส 1.2					มฐ. ส 2.1					มฐ. ส 2.2				มฐ. ส 3.1			มฐ. ส 3.2		มฐ. ส 5.1		มฐ. ส 5.2		
	1	2	3	4	5	6	7	8	9	1	2	3	4	5	1	2	3	1	2	3	1	2	1	2	1	2	1	2	3
21												✓																	
22												✓																	
23													✓																
24													✓																
25													✓																
26																	✓												
27																		✓											
28																			✓										
29																				✓									
30																					✓								
31																						✓							
32																							✓						
33																								✓					
34																									✓				
35																										✓			
36																											✓		
37																												✓	
38																												✓	
39																												✓	
40																												✓	

ตารางวิเคราะห์ข้อสอบมาตรฐานชั้นปี วิชา สังคมศึกษา ศาสนาและวัฒนธรรม ชุดที่ 1																														
ชั้นประถมศึกษาปีที่ 6																														
ข้อ	มาตรฐาน / ตัวชี้วัด																													
	มฐ. ส 1.1					มฐ. ส 1.2					มฐ. ส 2.1					มฐ. ส 2.2				มฐ. ส 3.1			มฐ. ส 3.2		มฐ. ส 5.1		มฐ. ส 5.2			
	1	2	3	4	5	6	7	8	9	1	2	3	4	1	2	3	4	5	1	2	3	1	2	1	2	1	2	1	2	3
41																														
42																								✓						
43																								✓						
44																												✓		
45																														
46																														
47																														
48																														
49																														
50																														

## โรงเรียนชุมชนบ้านช่องม้าเหลียว

ข้อสอบมาตรฐานชั้นปี ชุดที่ 1

กลุ่มสาระ สังคมศึกษา ศาสนา และวัฒนธรรม

วิชา สังคมศึกษา ศาสนา และวัฒนธรรม

ชั้นประถมศึกษาปีที่ 6

จำนวน 50 ข้อ

ให้กาเครื่องหมาย **X** ทับตัวอักษรหน้าคำตอบที่ถูกต้อง

1. เพราะเหตุใดพระพุทธศาสนาจึงมีความสำคัญในฐานะเป็นศาสนาประจำชาติไทย
  - ก. เพราะคนไทยส่วนใหญ่นับถือพระพุทธศาสนา
  - ข. เพราะพระพุทธศาสนามีอิทธิพลต่อคนไทยทุกคน
  - ค. เพราะพระพุทธศาสนามีความสำคัญกว่าศาสนาอื่นๆ
  - ง. เพราะพระพุทธศาสนาเผยแผ่เข้ามาในไทยเป็นเวลานานแล้ว
2. ข้อใดกล่าว**ไม่ถูกต้อง**เกี่ยวกับศาสดาของศาสนาต่างๆ
  - ก. พระพุทธเจ้าเป็นศาสดาของพระพุทธศาสนา
  - ข. พระเยซูประสูติในดินแดนปาเลสไตน์
  - ค. นบีมุฮัมมัดมีพระชนมายุรวม 63 ปี
  - ง. กุรูนานักประสูติที่ประเทศเนปาล
3. เรื่องใดต่อไป**นี้**ให้ข้อคิดเกี่ยวกับเรื่องเวรย่อมระงับด้วยการไม่จองเวร
  - ก. เรื่องพระราชนิพนธ์
  - ข. เรื่องที่มีดีโกศลชาดก
  - ค. เรื่องสัพพทาฐิชาดก
  - ง. เรื่องพ่อขุนรามคำแหงมหาราช
4. การมีสติสัมปชัญญะสอดคล้องกับศีลข้อใด
  - ก. ศีลข้อ 2
  - ข. ศีลข้อ 3
  - ค. ศีลข้อ 4
  - ง. ศีลข้อ 5
5. ข้อใดที่**แสดงถึง**ความมีเมตตาของพระอุดมประชาทร (เจ้าคุณอลองกต)
  - ก. ให้ความอุปการะเด็กที่พิการ
  - ข. ให้ความอุปการะเด็กที่กำพร้า
  - ค. ให้ความอุปการะเด็กที่ติดโรคเอดส์
  - ง. แจกจ่ายหนังสือธรรมะให้แก่ประชาชน
6. เหตุผลหลักในการฝึกสติและสมาธิคือข้อใด
  - ก. เพื่อให้จิตใจสงบ
  - ข. เพื่อให้คนอื่นยกย่อง
  - ค. เพื่อให้มีความจำแม่นยำ

- ง. เพื่อให้นอนหลับสนิทและไม่ฝันร้าย
7. ใครนำหลักธรรมทางศาสนามาแก้ไขปัญหาสิ่งเสพติดได้ดีที่สุด
- ก. กมลรักษาศีลข้อที่ 1 อย่างเคร่งครัด
- ข. ขวัญดารักษาศีลข้อ 2 อย่างเคร่งครัด
- ค. จินดารักษาศีลข้อ 4 อย่างเคร่งครัด
- ง. วิหารักษาศีลข้อ 5 อย่างเคร่งครัด
8. หลักความรักในศาสนาคริสต์สอดคล้องกับหลักธรรมใดในพระพุทธศาสนามากที่สุด
- ก. ฌราวาสธรรม 4
- ข. พรหมวิหาร 4
- ค. อิทธิบาท 4
- ง. อริยสัจ 4
9. พิธีกรรมใดทางพระพุทธศาสนาที่มีจุดมุ่งหมายในการขัดเกลาจิตใจของเยาวชนชาวพุทธมากที่สุด
- ก. พิธีทอดผ้าป่า
- ข. พิธีทอดกฐิน
- ค. พิธีบรรพชา
- ง. พิธีเข้าพรรษา
10. ข้อใดเป็นการปฏิบัติตนที่ไม่เหมาะสมขณะอยู่ในศาสนสถาน
- ก. วิ่งเล่นกับเพื่อน
- ข. สำนวณกิริยามารยาท
- ค. แต่งกายสุภาพ
- ง. ไม่พูดจาหยาบคาย
11. ข้อใดไม่ใช่การปฏิบัติตามแนวทางของพุทธศาสนิกชนที่ดี
- ก. ถวายทานแก่พระสงฆ์
- ข. บริจาคทรัพย์สินจำนวนมาก
- ค. หาโอกาสศึกษาหลักธรรม
- ง. ฝึกรบมจิตใจให้บริสุทธิ์อยู่เสมอ
12. ข้อใดคือประโยชน์สูงสุดในการเข้าร่วมกิจกรรมในวันสำคัญทางพระพุทธศาสนา
- ก. ได้ระลึกถึงพระพุทธเจ้า
- ข. ได้ถวายอาหารแก่พระสงฆ์
- ค. ได้ปฏิบัติตนเป็นคนดี
- ง. ได้พูดคุยกับเพื่อน
13. ใครปฏิบัติตนเป็นศาสนิกชนของศาสนาที่ตนนับถือไม่ถูกต้อง
- ก. สิ่งไว้ผมยาวตามหลักศาสนาสิกข์
- ข. อับดุลถือศีลอดในเดือนรอมฎอนตามหลักศาสนาอิสลาม
- ค. มงคลเข้าร่วมในพิธีแสดงตนเป็นพุทธมามกะตามหลักศาสนาคริสต์
- ง. สุดาทำบุญอุทิศให้แก่บรรพบุรุษที่ล่วงลับไปแล้วตามหลักศาสนาพราหมณ์ – ฮินดู
14. ข้อใดคือประโยชน์สูงสุดของการปฏิบัติตามกฎหมายจราจร
- ก. เพื่อลดอุบัติเหตุ
- ข. เพื่อลดค่าใช้จ่าย
- ค. เพื่อจราจรคล่องตัว





- ง. เพื่อลดจำนวนตำรวจจราจร
15. ข้อใดกล่าว**ไม่ถูกต้อง**เกี่ยวกับกฎหมายทะเบียนราษฎร
- ก. เมื่อมีคนเกิดต้องแจ้งภายใน 15 วัน
- ข. เมื่อมีคนตายต้องแจ้งภายใน 1 วัน
- ค. เมื่อย้ายเข้าต้องแจ้งภายใน 7 วัน
- ง. เมื่อย้ายออกต้องแจ้งภายใน 15 วัน
16. ข้อใด**ไม่ใช่**ประโยชน์ของการเสียภาษีบำรุงท้องที่
- ก. ทำให้ท้องถื่นมีรายได้
- ข. ทำให้ท้องถื่นมีงบประมาณในการพัฒนาท้องถื่น
- ค. ทำให้คนในท้องถื่นได้รับสาธารณูปโภคที่เหมาะสม
- ง. ทำให้คนในท้องถื่นมีรายได้ต่อคนมากขึ้น
17. ข้อใดเป็นผลจากการเปลี่ยนแปลงของวัฒนธรรมทางด้านเทคโนโลยีมากที่สุด
- ก. การตรงต่อเวลา
- ข. การคมนาคม
- ค. การแต่งกาย
- ง. การศึกษา
18. ใครักษาวัฒนธรรมไทยได้ถูกต้องเหมาะสมที่สุด
- ก. กบแต่งกายตามยุคสมัย
- ข. จินเที่ยวชมโบราณสถาน
- ค. นุชใช้ภาษาไทยอย่างถูกต้อง
- ง. มั่นดูรายการโทรทัศน์เกี่ยวกับวัฒนธรรมไทย
19. คำพูดใดเหมาะสมที่สุดในการใช้พูดกับเพื่อน
- ก. “ด้วยความเคารพค่ะ”
- ข. “ขอบพระคุณเป็นอย่างสูง”
- ค. “สวัสดีครับเพื่อนๆ”
- ง. “มาทางไหนไปทางนั้น”
20. การกระทำในข้อใดเป็นการแสดงมารยาทไทยที่**ไม่ถูกต้อง**
- ก. การไหว้ผู้ใหญ่ด้วยความนอบน้อม
- ข. การเดินค่อมตัวลงเมื่อผ่านผู้ใหญ่
- ค. การไม่เคี้ยวหรือกินอาหารเสียงดัง
- ง. การนั่งไขว่ห้างต่อหน้าผู้ใหญ่
21. ข้อใดกล่าว**ไม่ถูกต้อง**เกี่ยวกับวัฒนธรรมของกลุ่มคนในสังคมไทย
- ก. คนไทยในแต่ละภูมิภาคมีวัฒนธรรมการแต่งกายที่แตกต่างกัน
- ข. มโนราห์ หนังตะลุง ร่องเง็ง เป็นวัฒนธรรมการละเล่นพื้นเมืองของภาคใต้
- ค. น้ำพริกอ่อน น้ำพริกหนุ่ม แคลหมู เป็นวัฒนธรรมการกินพื้นเมืองของภาคเหนือ
- ง. น้ำพริกปลาทุ ต้มยำกุ้ง แกงเขียวหวาน เป็นวัฒนธรรมการกินพื้นเมืองของภาคอีสาน

22. ความแตกต่างทางวัฒนธรรมส่งผลอย่างไร
- ก. เกิดความหลากหลายในด้านภาษา
  - ข. ทำให้มีการแลกเปลี่ยนวัฒนธรรม
  - ค. เป็นเอกลักษณ์ของแต่ละท้องถิ่น
  - ง. ถูกทุกข้อ
23. นักเรียนควรสนใจข่าวใดเป็นพิเศษ
- ก. ข่าวกีฬา
  - ข. ข่าวการศึกษา
  - ค. ข่าวบันเทิง
  - ง. ข่าวต่างประเทศ
24. ข้อใดคือประโยชน์สูงสุดของการฟังข่าว
- ก. เป็นคนทันสมัย
  - ข. มีข้อมูลในการแสดงความคิดเห็น
  - ค. มีความรู้เพิ่มมากขึ้น
  - ง. มีเรื่องคุยกับเพื่อน
25. ข้อใดกล่าว**ไม่ถูกต้อง**เกี่ยวกับหลักในการเลือกรับข้อมูลข่าวสาร
- ก. ต้องเป็นข้อมูลปัจจุบัน
  - ข. เลือกใช้ข้อมูลที่เป็นประโยชน์ในการดำเนินชีวิต
  - ค. หลีกเลี่ยงข่าวสารที่จะส่งผลกระทบต่อจิตใจ
  - ง. เลือกรับข่าวสารที่ตนเองสนใจจากแหล่งเดียวเพื่อช่วยในการตัดสินใจได้ง่าย
26. ข้อใดกล่าว**ไม่ถูกต้อง**เกี่ยวกับบทบาทหน้าที่ของรัฐบาลและองค์กรปกครองส่วนท้องถิ่น
- ก. รัฐบาลมีบทบาทหน้าที่ในการรักษาเอกราชของประเทศชาติ
  - ข. องค์กรปกครองส่วนท้องถิ่นมีบทบาทหน้าที่ในการพัฒนาประเทศในทุกด้าน
  - ค. รัฐบาลมีบทบาทหน้าที่ในการบริหารราชการแผ่นดินให้เป็นไปตามบทบัญญัติของกฎหมาย
  - ง. องค์กรปกครองส่วนท้องถิ่นมีบทบาทหน้าที่ในการบริหารงานอย่างอิสระในเขตพื้นที่ที่กำหนด
27. ข้อใดเป็นการส่งเสริมประชาธิปไตยในประเทศ
- ก. เข้าร่วมเจรจาเพื่อหาข้อยุติเรื่องพื้นที่เกษตรกรรมในชุมชน
  - ข. รณรงค์ให้ประชาชนเข้าร่วมสืบสานประเพณีในจังหวัด
  - ค. ไปใช้สิทธิเลือกตั้งสมาชิกสภาผู้แทนราษฎร
  - ง. รักษาสาธารณสมบัติในท้องถิ่นของตนเอง

28. กิจกรรมข้อใดส่งเสริมประชาธิปไตยน้อยที่สุด
- การร่วมมือกันทำงานเพื่อประโยชน์ของส่วนรวม
  - การชุมนุมแสดงความคิดเห็น
  - การปฏิบัติตามกฎหมายจราจร
  - การไปใช้สิทธิออกเสียงเลือกตั้ง
29. ถ้านักเรียนมีสิทธิเลือกตั้ง ส.ส. นักเรียนมีหลักเกณฑ์ในการเลือกอย่างไร จึงจะเหมาะสมและดีที่สุด
- เลือกพรรคที่เก่าแก่มีฐานะมั่นคง
  - เลือกพรรคที่สัญญาว่าจะช่วยพัฒนาท้องถิ่นที่นักเรียนอาศัยอยู่
  - เลือกพรรคที่มีหัวหน้าพรรคเป็นคนดังในสังคม
  - เลือกพรรคที่มีนโยบายในการบริหารประเทศที่เด่นชัดและเป็นไปได้
30. ข้อใดกล่าวได้ถูกต้องเกี่ยวกับการเลือกตั้ง
- ในการลงชื่อ ถ้าเขียนหนังสือไม่ได้ให้พิมพ์ลายนิ้วมือเป็นหลักฐานแทนได้
  - ผู้มีสิทธิเลือกตั้งต้องมีชื่ออยู่ในทะเบียนบ้านอย่างน้อย 60 วัน
  - การหย่อนบัตรเลือกตั้งต้องให้กรรมการเป็นผู้หย่อนเท่านั้น
  - ก่อนวันเลือกตั้งไม่จำเป็นต้องฟังนโยบายของผู้สมัคร
31. ใครปฏิบัติตนได้เหมาะสมที่สุดในฐานะเป็นผู้ผลิต
- ผลิตสินค้าเฉพาะที่ตนชอบ
  - น้อยทำอาหารที่คนชอบกินไปวางขาย
  - นุชไม่ได้คิดป้ายราคาสินค้า
  - น้อยใช้สารฟอกขาวเพื่อให้อาหารดูน่ารับประทาน
32. ข้อใดไม่ใช่บทบาทของผู้ผลิตที่มีคุณภาพ
- คำนึงถึงสิ่งแวดล้อม
  - มีความซื่อสัตย์ต่อผู้บริโภค
  - มีจิตสำนึกที่ดีในการผลิตสินค้า
  - คำนึงถึงประโยชน์ของบริษัทเป็นหลัก
33. ข้อใดไม่ใช่หลักเกณฑ์ในการเลือกซื้อสินค้าและบริการ
- หลักความจำเป็น
  - หลักการมีประโยชน์
  - หลักความประหยัด
  - หลักความชอบส่วนตัว



34. ข้อใดไม่ใช่คุณสมบัติของผู้บริโภคที่ดี
- ไม่หลงเชื่อคำโฆษณาอย่างง่ายๆ
  - ซื้อเฉพาะสินค้าและบริการที่มีของแถม
  - วางแผนก่อนเลือกซื้อสินค้าและบริการ
  - สำรวจสินค้าจากหลายๆ ร้านก่อนตัดสินใจซื้อ
35. ทรัพยากรในข้อใดจัดเป็นทรัพยากรเสรี
- อาหาร
  - ป่าไม้
  - เสื้อผ้า
  - บ้านเรือน
36. ข้อใดไม่จัดเป็นการใช้ทรัพยากรอย่างยั่งยืน
- ใช้เท่าที่จำเป็น
  - ใช้ให้เกิดประโยชน์สูงสุด
  - ใช้ในการผลิตให้คุ้มค่าที่สุด
  - ใช้ผลิตสินค้าเป็นจำนวนมาก เพื่อตอบสนองความต้องการของคนให้ได้มากที่สุด
37. ภาษีในข้อใดไม่ใช่ภาษีทางตรง
- ภาษีเงินได้
  - ภาษีทรัพย์สิน
  - ภาษีมรดก
  - ภาษีมูลค่าเพิ่ม
38. ข้อใดกล่าวไม่ถูกต้องเกี่ยวกับสิทธิของผู้บริโภคและผู้ใช้แรงงาน
- ผู้บริโภคมีสิทธิที่จะมีอิสระในการเลือกซื้อสินค้าและบริการ
  - ผู้บริโภคมีสิทธิที่จะได้รับความปลอดภัยจากการใช้สินค้าและบริการ
  - ผู้ใช้แรงงานมีสิทธิที่จะมีวันหยุดประจำสัปดาห์ไม่น้อยกว่าสัปดาห์ละ 2 วัน
  - ผู้ใช้แรงงานมีสิทธิที่จะได้เงินทดแทนจากนายจ้างเมื่อเกิดอุบัติเหตุ ซึ่งเกิดจากการทำงานให้นายจ้าง
39. ข้อใดคือผลดีของการรวมกลุ่มในการผลิตที่สำคัญที่สุด
- เพิ่มอำนาจต่อรองในการขายสินค้า
  - ทำให้เกิดการแข่งขันทางเศรษฐกิจ
  - ทำให้สินค้าของผู้ที่รวมกลุ่มขายดีขึ้น
  - ทำให้สินค้าต่างๆ มีคุณภาพดีและตรงกับความต้องการมากขึ้น
40. ข้อใดไม่ใช่เป้าหมายหลักของการรวมกลุ่มทางเศรษฐกิจในท้องถิ่น
- เพื่อแก้ปัญหาพ่อค้าคนกลาง
  - เพื่อรวมตัวกันขึ้นราคาสินค้า

- ค. เพื่อแก้ปัญหาตลาดรับซื้อสินค้า
41. ในแผนที่ใช้สัญลักษณ์ใด แทนภูเขา
- ก. 
- ข. 
- ค. 
- ง. 
42. ถ้าเราต้องการทราบรายละเอียดเกี่ยวกับลักษณะทางกายภาพในบริเวณชุมชน เราควรศึกษาจากภาพถ่ายใดจึงจะเหมาะสมที่สุด
- ก. ภาพถ่ายทางภูมิศาสตร์ทั่วไป
- ข. ภาพถ่ายทางอากาศ
- ค. ภาพถ่ายจากดาวเทียม
- ง. ภาพถ่ายสามมิติ
43. ประเทศไทยมีลมพัดผ่านหลายชนิดยกเว้นข้อใด
- ก. ลมมรสุมตะวันออกเฉียงเหนือ
- ข. ลมมรสุมตะวันตกเฉียงใต้
- ค. ลมพายุโซนร้อน
- ง. ลมพายุทอร์นาโด
44. ข้อใดไม่ใช่ฤดูกาลของประเทศไทย
- ก. ฤดูร้อน
- ข. ฤดูฝน
- ค. ฤดูใบไม้ร่วง
- ง. ฤดูหนาว
45. ถ้าลักษณะทางกายภาพเป็นที่ราบลุ่ม มีอากาศร้อน ฝนตกหนักในฤดูฝน การปลูกสร้างบ้านในลักษณะใดจึงจะเหมาะสมมากที่สุด
- ก. ยกพื้นสูง มีหน้าต่างหลายบาน และมีหลังคาทรงสูง
- ข. พื้นบ้านต่ำ มีหน้าต่างหลายบาน และมีหลังคาทรงสูง
- ค. ยกพื้นสูง มีหน้าต่างน้อยบาน และมีหลังคาทรงเตี้ย
- ง. พื้นบ้านต่ำ มีหน้าต่างน้อยบาน และมีหลังคาทรงเตี้ย
46. ข้อใดไม่ใช่ความสัมพันธ์ระหว่างสิ่งแวดล้อมทางธรรมชาติกับสิ่งแวดล้อมทางสังคมที่สอดคล้องกัน
- ก. บริเวณที่มีทรัพยากรธรรมชาติอุดมสมบูรณ์ผู้คนมักตั้งบ้านเรือนอาศัยอยู่หนาแน่น
- ข. บริเวณที่เป็นที่ราบลุ่ม น้ำท่วมถึง ผู้คนมักสร้างบ้านให้มีได้สูง
- ค. บริเวณที่มีแหล่งน้ำอุดมสมบูรณ์ มักจะมีประเพณีที่เกี่ยวกับน้ำ
- ง. บริเวณที่มีสภาพอากาศหนาว ผู้คนมักจะสร้างบ้านที่มีหน้าต่างหลายบาน

47. ข้อใดอธิบายการเปลี่ยนแปลงสภาพธรรมชาติในประเทศไทยจากอดีตถึงปัจจุบันได้ถูกต้องที่สุด
- สภาพธรรมชาติของประเทศไทยในอดีตและปัจจุบันยังคงเหมือนเดิม
  - สภาพธรรมชาติของประเทศไทยในปัจจุบันอุดมสมบูรณ์กว่าในอดีต
  - สภาพธรรมชาติของประเทศไทยในอดีตมีความอุดมสมบูรณ์มากแต่ปัจจุบันมีความอุดมสมบูรณ์ลดลง
  - สภาพธรรมชาติของประเทศไทยในปัจจุบันมีการเปลี่ยนแปลงไปในทางที่ดีขึ้นมากกว่าในอดีต
48. การเปลี่ยนแปลงทรัพยากรและสิ่งแวดล้อมในข้อใดที่ส่งผลเสียต่อมนุษย์ร้ายแรงที่สุด
- น้ำเน่าเสีย
  - ดินเสื่อมคุณภาพ
  - อากาศเป็นพิษ
  - สัตว์ป่าสูญพันธุ์
49. ใครใช้ทรัพยากรธรรมชาติได้เหมาะสมที่สุด
- โสภิตารีดเสื้อผ้าครั้งละ 1 ตัว เพราะไม่มีเวลา
  - โสภณาเปิดพัดลมทั้งวันทั้งคืน เพราะอากาศร้อน
  - วิชัยปิดไฟทุกครั้งหลังเลิกใช้งาน เพราะช่วยประหยัดค่าใช้จ่าย
  - ปราณีเปิดน้ำทิ้งไว้ขณะแปรงฟัน เพราะต้องการล้างคราบฟอง

**ตัวอย่าง แผนการอนุรักษ์ทรัพยากรธรรมชาติและสิ่งแวดล้อมของชุมชนต่างๆ**

เครือข่ายป่าชุมชนบ้านแม่ระวาน ต.ยกกระบัตร อ.สามเงา จ.ตาก ได้ร่วมกันวางแผนจัดการพื้นที่ป่าและอนุรักษ์ป่าด้วยการสร้างฝายชะลอน้ำ ปลูกป่าเสริม ลาดตระเวนป่าและทำแนวกันไฟ ผลจากการดำเนินงานทำให้ป่าชุมชนบ้านแม่ระวานที่ได้รับการฟื้นฟูให้กลับมาสมบูรณ์อีกครั้ง การเกิดไฟป่าลดลง ป่ามีความหลากหลายทางระบบนิเวศมากขึ้นและสมบูรณ์พร้อมที่จะเป็นแหล่งอาหารให้ชาวบ้านได้ จากประสบการณ์การแก้ไขปัญหาสิ่งแวดล้อมที่ชัดเจนและเป็นรูปธรรมนี้ เครือข่ายฯ จึงได้นำความรู้ไปถ่ายทอดสู่เด็กและเยาวชนในพื้นที่ รวมถึงได้สร้างกระบวนการเรียนรู้ด้านการรักษาป่าร่วมกับชุมชนใกล้เคียงที่สนใจ

50. จากข้อความด้านบนก่อให้เกิดผลดีในด้านต่างๆ ยกเว้นข้อใด
- เกิดการร่วมมือและสามัคคีกันของคนในชุมชน
  - ทำให้ทรัพยากรมีความอุดมสมบูรณ์มากขึ้น
  - เกิดกระบวนการเรียนรู้ด้านการอนุรักษ์ทรัพยากร
  - ทำให้คนในชุมชนมีฐานะทางเศรษฐกิจที่มั่นคง