

ตารางวิเคราะห์ข้อสอบมาตรฐานชั้นปี วิชา สังคมศึกษา ศาสนา และวัฒนธรรม ชุดที่ 1
ชั้นประถมศึกษาปีที่ 4

ข้อ	มาตรฐาน / ตัวชี้วัด																												
	มฐ. ส 1.1					มฐ. ส 1.2			มฐ. ส 2.1					มฐ. ส 2.2		มฐ. ส 3.1			มฐ. ส 3.2			มฐ. ส 5.1			มฐ. ส 5.2				
	1	2	3	4	5	6	7	8	1	2	3	1	2	3	1	2	3	1	2	3	1	2	3	1	2	3	1	2	3
1	✓																												
2		✓																											
3				✓																									
4				✓																									
5				✓																									
6				✓																									
7					✓																								
8					✓																								
9						✓																							
10						✓																							
11							✓																						
12								✓																					
13									✓																				
14										✓																			
15											✓																		

ตารางวิเคราะห์ข้อสอบมาตรฐานชั้นปี วิชา สังคมศึกษา ศาสนา และวัฒนธรรม ชุดที่ 1
ชั้นประถมศึกษาปีที่ 4

ข้อ	มาตรฐาน / ตัวชี้วัด																														
	มฐ. ส 1.1								มฐ. ส 1.2			มฐ. ส 2.1					มฐ. ส 2.2			มฐ. ส 3.1			มฐ. ส 3.2			มฐ. ส 5.1			มฐ. ส 5.2		
	1	2	3	4	5	6	7	8	1	2	3	1	2	3	4	5	1	2	3	1	2	3	1	2	3	1	2	3	1	2	3
16										✓																					
17											✓																				
18										✓																					
19												✓																			
20												✓																			
21													✓																		
22													✓																		
23														✓																	
24														✓																	
25															✓																
26																															
27																															
28																															
29																															
30																															

ตารางวิเคราะห์ข้อสอบมาตรฐานชั้นปี วิชา สังคมศึกษา ศาสนา และวัฒนธรรม ชุดที่ 1
 ชั้นประถมศึกษาปีที่ 4

ข้อ	มาตรฐาน / ตัวชี้วัด																																																			
	มฐ. ส 1.1								มฐ. ส 1.2			มฐ. ส 2.1					มฐ. ส 2.2			มฐ. ส 3.1			มฐ. ส 3.2		มฐ. ส 5.1			มฐ. ส 5.2																								
	1	2	3	4	5	6	7	8	1	2	3	1	2	3	4	5	1	2	3	1	2	3	1	2	3	1	2	3	1	2	3																					
31																																																				
32																																																				
33																																																				
34																																																				
35																																																				
36																																																				
37																																																				
38																																																				
39																																																				
40																																																				
41																																																				
42																																																				
43																																																				
44																																																				
45																																																				

ตารางวิเคราะห์ข้อสอบมาตรฐานชั้นปี วิชา สังคมศึกษา ศาสนา และวัฒนธรรม ชุดที่ 1
ชั้นประถมศึกษาปีที่ 4

ข้อ	มาตรฐาน / ตัวชี้วัด																														
	มฐ. ส 1.1								มฐ. ส 1.2		มฐ. ส 2.1					มฐ. ส 2.2			มฐ. ส 3.1		มฐ. ส 3.2		มฐ. ส 5.1		มฐ. ส 5.2						
	1	2	3	4	5	6	7	8	1	2	3	1	2	3	4	5	1	2	3	1	2	3	1	2	3	1	2	3	1	2	3
46																															
47																															
48																															
49																															
50																															

โรงเรียนชุมชนบ้านช่องม้าเหลียว

ข้อสอบมาตรฐานชั้นปี ชุดที่ 1

กลุ่มสาระสังคมศึกษา ศาสนา และวัฒนธรรม

วิชา สังคมศึกษา ศาสนา และวัฒนธรรม

ชั้นประถมศึกษาปีที่ 4

จำนวน 50 ข้อ

ให้กาเครื่องหมาย **X** ทับตัวอักษรหน้าคำตอบที่ถูกต้อง






- การนับถือศาสนามีประโยชน์ในเรื่องใดมากที่สุด
 - เป็นที่พึ่งทางใจ
 - แสดงถึงวัฒนธรรมอันดีงาม
 - สร้างความกลมเกลียวในครอบครัว
 - เพื่อตอบสนองความต้องการทางด้านร่างกาย
- จากการศึกษาพุทธประวัติทำให้ทราบว่าพระพุทธเจ้ามีคุณธรรมต่างๆ มากมาย ยกเว้นข้อใด
 - ความเมตตากรุณา
 - ความอดทนอดกลั้น
 - ความฉลาดรอบรู้
 - ความคิดที่จะเป็นใหญ่
- ข้อคิดที่ได้จากเรื่องนกขมิ้นสอนลิงพาล คือข้อใด
 - การให้คำแนะนำที่ดีแก่คนพาลย่อมไม่ได้ผล
 - การกล้าแสดงออกย่อมเป็นสิ่งที่ดีแก่ตนเอง
 - การคบกับเพื่อนที่ดีย่อมทำให้ชีวิตมีความสุข
 - การพูดจาด้วยถ้อยคำที่สุภาพย่อมประสบผลสำเร็จ
- ข้อคิดที่ได้จากเรื่องมหาอุกกุสชาดก คือข้อใด
 - การให้คำแนะนำที่ดีแก่คนพาลย่อม ไม่ได้ผล
 - การพูดจาด้วยถ้อยคำที่สุภาพย่อมประสบผลสำเร็จ
 - การคบกับเพื่อนที่ดีย่อมทำให้ชีวิตมีความสุข
 - การกล้าแสดงออกย่อมเป็นสิ่งที่ดีแก่ตนเอง
- ความเชื่อเรื่องใดที่ไม่เกี่ยวข้องกับหลักศรัทธา 4
 - เชื่อว่ากรรมมีอยู่จริง
 - เชื่อว่าทำดียอมได้ดี ทำชั่วยอมได้ชั่ว
 - เชื่อว่าแต่ละคนที่แตกต่างกันเพราะผลของกรรม
 - เชื่อว่าถ้าทำบุญมากๆ จะสามารถลบกรรมชั่วได้
- หลักคำสอนเรื่องความรักเป็นหลักคำสอนสำคัญของศาสนาใด
 - พระพุทธศาสนา
 - ศาสนาคริสต์
 - ศาสนาอิสลาม
 - ศาสนาพราหมณ์ – ฮินดู
- ใครไม่ได้ปฏิบัติตามหลักบุญกิริยาวัตถุ

- ก. โตโต้เก็บกระเป๋าเรียนของตนไว้อย่างเรียบร้อย
 - ข. เมจิให้อภัยเพื่อนที่ทำผิดต่อตนเอง
 - ค. โอโมะนั่งสมาธิเป็นประจำเมื่อมีโอกาส
 - ง. ไมโลพูดให้กำลังใจเพื่อนในการทำความคิด
8. การกระทำของใครเป็นสิ่งที่น่าชื่นชมที่สุด
- ก. สากสละเก้าอี้ให้คนชรานั่ง
 - ข. กมลเป็นนักกีฬาของโรงเรียน
 - ค. อานนท์ขออนุญาตพ่อแม่ไปวิ่งเล่นกับเพื่อนๆ
 - ง. สุรพลเก็บกระเป๋าเงินได้แล้วนำส่งคืนเจ้าของ
9. ข้อใดแสดงว่าเรามีสติตลอดเวลา
- ก. พูดโต้ตอบผู้อื่นด้วยความรวดเร็ว
 - ข. ก่อนจะทำอะไรต้องคิดก่อน
 - ค. คิดถึงเรื่องต่างๆ ในขณะที่ทำการบ้าน
 - ง. ทำงานได้อย่างคล่องแคล่วว่องไว
10. ข้อใดไม่ใช่ลักษณะของการมีสติและสมาธิ
- ก. ในขณะที่ครูอธิบายต้องตั้งใจฟัง
 - ข. เมื่อเกิดความสงสัยในบทเรียนควรเก็บไว้ในใจ
 - ค. ในขณะที่อ่านหนังสือต้องมีใจจดจ่ออยู่กับเรื่องที่อ่าน
 - ง. นำเรื่องที่ได้ฟังหรือได้อ่านมาคิดพิจารณาอย่างรอบคอบก่อนนำไปปฏิบัติ
11. หลักธรรมใดที่สามารถทำให้เราอยู่ร่วมกันในชาติได้อย่างสมานฉันท์
- | | |
|----------------|----------------|
| ก. ความเมตตา | ข. ความเสียสละ |
| ค. ความสามัคคี | ง. ความกตัญญู |
12. ข้อใดกล่าวไม่ถูกต้องเกี่ยวกับพระเยซู
- ก. พระเยซูเป็นศาสดาของศาสนาคริสต์
 - ข. พระเยซูเป็นชาวอาหรับ
 - ค. พระเยซูประสูติที่เมืองเบธเลเฮม
 - ง. พระเยซูมุ่งสอนให้มนุษย์มีความรักต่อกัน
13. ข้อใดเกี่ยวข้องกับนบีมุฮัมมัดซึ่งเป็นศาสดาของศาสนาอิสลาม

- ก. ส่งให้ความร่วมมือต่อผู้นำเป็นอย่างดี
- ข. เกลิมปฏิบัติหน้าที่ตามที่ได้รับมอบหมายด้วยความรับผิดชอบ
- ค. บันทึกร่างกำหนดนโยบายในการพัฒนาชุมชนต่อผู้นำและทุกคน
- ง. สมหวังร่วมแสดงความคิดเห็นอย่างมีเหตุผลในกิจกรรมต่างๆ
20. ผู้นำในข้อใดที่ควรเลือกที่สุด
- ก. ผู้นำที่มีบุคลิกภาพดีและมีมนุษยสัมพันธ์ดี
- ข. ผู้นำที่มีจินตนาการกว้างไกล
- ค. ผู้นำที่มีความมั่นใจในตนเอง
- ง. ผู้นำที่มีเหตุผลดีและมีความเสียสละ
21. เด็กในข้อใดได้รับสิทธิที่จะได้รับการพัฒนา
- ก. แม่พาน้องออกลินไปนวดยาที่โรงพยาบาล
- ข. พ่อพาน้องลันตาไปเข้าโรงเรียน
- ค. ย่าพาน้องเอเซียไปเที่ยวสวนสัตว์
- ง. ตาพาน้องทะเลไปร่วมกิจกรรมรณรงค์พัฒนาชุมชน
22. บริการขั้นพื้นฐานที่รัฐต้องจัดให้กับเด็กทุกคนคือข้อใด
- ก. การศึกษา
- ข. เครื่องนุ่งห่ม
- ค. ยารักษาโรค
- ง. อาหาร
23. ข้อใดอาจเป็นสาเหตุให้เกิดความขัดแย้งของคนที่มีวัฒนธรรมต่างกัน
- ก. การยอมรับในความแตกต่างของวัฒนธรรม
- ข. การภูมิใจในความหลากหลายของวัฒนธรรม
- ค. การไม่ดูถูกวัฒนธรรมของผู้อื่นที่แตกต่างจากตน
- ง. การไม่ให้ความสำคัญกับวัฒนธรรมของผู้อื่นที่แตกต่างจากตน
24. ข้อใดเป็นวัฒนธรรมการพูดของกลุ่มคนในท้องถิ่นต่างๆ ที่มีความหมายแตกต่างจากพวก
- ก. จี๋หก
- ข. จี๋จู้
- ค. จี๋ตัว
- ง. จี๋ขลาด
25. ข้อใดไม่ใช่วิธีการที่จะทำให้อยู่ร่วมกันอย่างสันติสุขในชีวิตประจำวันได้
- ก. บังคับให้คนอื่นปฏิบัติตามตนเอง
- ข. รับฟังความคิดเห็นของผู้อื่น
- ค. ปฏิบัติตามข้อตกลงร่วมกัน
- ง. ปฏิบัติตามเสียงส่วนใหญ่
26. ข้อใดกล่าวไม่ถูกต้องเกี่ยวกับการปกครองระบอบประชาธิปไตย

- ก. รัฐธรรมนูญเป็นกฎหมายสูงสุดของประเทศในระบอบประชาธิปไตย
- ข. อำนาจในการออกกฎหมายตามระบอบประชาธิปไตยเรียกว่า อำนาจนิติบัญญัติ
- ค. ทุกคนมีศักดิ์ศรีความเป็นมนุษย์ มีความเสมอภาคเท่าเทียมกันในระบอบประชาธิปไตย
- ง. เสี่ยงข้างมากย่อมมีความถูกต้องกว่าเสี่ยงข้างน้อยแม้จะมีเหตุผลที่ดีกว่าก็ตาม
27. ถ้านักเรียนมีสิทธิเลือกตั้ง ส.ส. นักเรียนจะไปใช้สิทธินั้นหรือไม่ เพราะเหตุใด
- ก. ไป เพราะกลัวตำรวจจับ
- ข. ไป เพราะจะได้เลือกคนดีเข้าไปบริหารประเทศ
- ค. ไม่ไป เพราะเสียเวลาเปล่าๆ
- ง. ไม่ไป เพราะไม่มีประโยชน์
28. ถ้านักเรียนมีสิทธิเลือกตั้งผู้นำ ควรเลือกบุคคลแบบใด
- ก. ผู้ที่มีชื่อเสียง
- ข. ผู้ที่มีบุคลิกดี
- ค. ผู้ที่มีฐานะมั่นคง
- ง. ผู้ที่มีความเสียสละ
29. ประเทศไทยได้เปลี่ยนแปลงการปกครองจากระบอบสมบูรณาญาสิทธิราชย์มาเป็นระบอบประชาธิปไตยอันมีพระมหากษัตริย์เป็นประมุข เมื่อใด
- ก. ปี พ.ศ. 2425
- ข. ปี พ.ศ. 2450
- ค. ปี พ.ศ. 2475
- ง. ปี พ.ศ. 2520
30. ใครเลือกซื้อสินค้าได้ถูกต้องที่สุด
- ก. กิ่งซื้อสินค้าเพราะลดราคา
- ข. แก้วซื้อสินค้าเพราะมีคุณภาพดี
- ค. กานซื้อสินค้าเพราะจำเป็นต้องใช้
- ง. โกวซื้อสินค้าเพราะมีของแถม
31. สินค้าชนิดใดที่นักเรียนควรเลือกซื้อมากที่สุด
- ก. หนังสือการ์ตูน
- ข. อุปกรณ์การเรียน
- ค. ของเล่น
- ง. อุปกรณ์กีฬา
32. ข้อใดไม่ใช่วัตถุประสงค์ของการมีพระราชบัญญัติคุ้มครองผู้บริโภค
- ก. เพื่อให้ผู้บริโภคเกิดความประทับใจ
- ข. เพื่อให้ผู้บริโภคได้รับความเป็นธรรม
- ค. เพื่อให้ผู้บริโภคได้รับความปลอดภัย
- ง. เพื่อให้ผู้บริโภคได้รับความประหยัด
33. ข้อใดเป็นการละเมิดสิทธิพื้นฐานของผู้บริโภค

- ก. เกษมสามารถเปลี่ยนพดลที่ซื้อไปใหม่ซึ่งมีใบพัดหักจากทางร้านได้
- ข. นาวิถูกแม่ค้าผลไม้ต่อว่าขณะกำลังคัดเลือกมะม่วงที่ตนเองจะซื้อ
- ค. ลัดดาได้รับชดเชยค่าเสียหายจากการใช้ผลิตภัณฑ์ชนิดหนึ่ง
- ง. ถาวรกำลังตรวจสอบสภาพรถที่ตนเองจะซื้อ
34. ใครไม่ปฏิบัติตามหลักปรัชญาเศรษฐกิจพอเพียง
- ก. ไพโรจน์ไม่ลงทุนเกินความสามารถของตน
- ข. พิชิตซื้อสินค้าและบริการอย่างมีเหตุผล
- ค. วิชัยซื้ออาหารมากินแต่พออิ่ม
- ง. ไพเราะไม่พึ่งพาผู้อื่นเลย
35. ข้อใดไม่ใช่วิธีการของเศรษฐกิจพอเพียง
- ก. รวมกลุ่มกันต่อต้านนโยบายของรัฐ
- ข. ส่งเสริมให้ความรู้แก่เกษตรกร
- ค. จัดตั้งกองทุนสนับสนุนเกษตรกร
- ง. พึ่งพาตนเองและอยู่แบบพอมีพอกิน
36. ข้อใดไม่ใช่วิธีที่จะทำให้ชุมชนเข้มแข็ง
- ก. รวมตัวกันเป็นกลุ่มสหกรณ์เพื่อผลิตสินค้าในชุมชน
- ข. พัฒนารูปแบบและคุณภาพสินค้าให้ได้มาตรฐาน
- ค. ส่งเสริมให้ความรู้กับคนในชุมชนในด้านต่างๆ
- ง. เน้นการผลิตเพื่อจำหน่ายภายในชุมชนเท่านั้น
37. สินค้าชนิดใดไม่ได้เกิดจากอาชีพหัตถกรรม
- ก. เสื้อผ้าสำเร็จรูป
- ข. โอ่งมังกร
- ค. ตะกร้าสาน
- ง. แจก้นดินเผา
38. ถ้าเราไม่รู้จักใช้จ่ายเงินให้ดี จะเกิดผลอย่างไร
- ก. ไม่มีคนคบหาด้วย
- ข. อาจเป็นหนี้สิน
- ค. ครอบครัวมีความสุข
- ง. มีเงินใช้ไม่ขาดมือ
39. ข้อใดกล่าวไม่ถูกต้องเกี่ยวกับหน้าที่ของเงินในระบบเศรษฐกิจ

- ก. เป็นสิ่งที่สามารถป้องกันอันตรายได้
- ข. เป็นเครื่องรักษามูลค่าของสินค้าและบริการ
- ค. เป็นสื่อกลางในการแลกเปลี่ยนสินค้าและบริการ
- ง. เป็นมาตรฐานในการวัดค่าหรือเปรียบเทียบค่าของสินค้าและบริการได้
40. ข้อใดไม่ใช่ประโยชน์ของแผนที่
- ก. ใช้ค้นหาสถานที่
- ข. ใช้ค้นหาเส้นทาง
- ค. ใช้วางแผนในการเดินทาง
- ง. ใช้ตรวจสอบอุณหภูมิของพื้นที่ต่างๆ
41. สัญลักษณ์  ที่ปรากฏในแผนที่เป็นสัญลักษณ์แสดงสิ่งใด
- ก. ที่ตั้งอำเภอ
- ข. แหล่งน้ำ
- ค. แม่น้ำ
- ง. ทางรถไฟ
42. ถ้าในจังหวัดของเรามีทางรถไฟ เราสามารถแสดงได้ด้วยสัญลักษณ์ใดในแผนที่
- ก. 
- ข. 
- ค. 
- ง. 
43. ภาพถ่ายในข้อใดไม่ใช่ภาพถ่ายทางอากาศ
- ก. ภาพถ่ายจากเครื่องบิน
- ข. ภาพถ่ายจากบอลูน
- ค. ภาพถ่ายจากดาวเทียม
- ง. ภาพถ่ายจากตึกสูง
44. ถ้าในแผนที่จังหวัดของเรา มีสัญลักษณ์แสดงแหล่งน้ำและที่ราบลุ่มของพื้นที่เป็นจำนวนมาก จะส่งผลให้คนในชุมชนส่วนใหญ่มักจะประกอบอาชีพใด
- ก. เกษตรกรรม
- ข. ค้าขาย
- ค. อุตสาหกรรม
- ง. บริการ
45. ในท้องถิ่นที่พื้นดินมีความอุดมสมบูรณ์ ผู้คนมักประกอบอาชีพใดมากที่สุด
- ก. เพาะปลูก
- ข. ประมง
- ค. ค้าขาย
- ง. เลี้ยงสัตว์
46. ภาคตะวันออกเฉียงเหนือมีสภาพอากาศแห้งแล้ง ฝนไม่ตกตามฤดูกาล จึงเป็นสาเหตุให้เกิดประเพณีใดขึ้น
- ก. แห่เทียนพรรษา
- ข. แข่งเรือยาว
- ค. แห่นางแมว
- ง. ตักบาตรดอกไม้ม
47. ข้อใดไม่ใช่สาเหตุของการเปลี่ยนแปลงสภาพแวดล้อมที่เกิดจากธรรมชาติ

